



MAKTAB RENDAH SAINS MARA



**PEPERIKSAAN PERCUBAAN  
SIJIL PELAJARAN MALAYSIA 2008  
PENDIDIKAN ISLAM**

**1223/1**

**Kertas 1  
September  
2 Jam**

**Dua Jam**

---

---

**JANGAN BUKA KERTAS SOALAN INI SEHINGGA DIBERITAHU**

1. *Kertas soalan ini mengandungi **dua** bahagian. **Bahagian A dan Bahagian B.***
2. ***Bahagian A** mengandungi 40 soalan objektif yang diikuti oleh empat pilihan jawapan **A, B, C dan D** serta soalan mengisi tempat kosong. Jawab **semua** soalan pada kertas jawapan yang disediakan dalam kertas soalan ini.*
3. ***Bahagian B** mengandungi **empat** soalan subjektif. **Soalan 1 dan Soalan 2** wajib dijawab dan pilih mana-mana **satu** soalan berikutnya. Kesemua **tiga** soalan wajib dijawab. Semua jawapan hendaklah ditulis pada kertas jawapan yang disediakan.*
4. *Ceraikan kertas jawapan **Bahagian A** dan ikat bersama-sama dengan kertas jawapan **Bahagian B.***

---

Kertas soalan ini mengandungi **13** halaman bercetak

**Bahagian A**  
[40 markah]

**Soalan 1 hingga soalan 20**

Tiap-tiap soalan diikuti oleh empat pilihan jawapan **A, B, C dan D. Bulatkan jawapan yang tepat pada ruangan jawapan yang disediakan.**

1.

Perbuatan secara halus melalui pertolongan syaitan atau jin bertujuan memudaratkan dan mengelirukan manusia

Pernyataan di atas adalah berkaitan dengan....

- A Sihir
- B Nifak
- C Kufur
- D Khurafat

2. Antara pernyataan berikut yang manakah **benar** mengenai pegangan Khawarij ?

- A Membataskan sumber syariat hanya kepada al-Qur'an
- B Menghalalkan beberapa kemungkaran seperti minum arak
- C Mengharuskan perkahwinan mut'ah
- D Beramal dengan taqiyyah

3. Hukuman yang ditetapkan ke atas orang yang melakukan qazaf ialah ....

- A Disebat 40 kali
- B Disebat 80 kali
- C Disebat 100 kali
- D Direjam hingga mati

4. Nama ahli al-Sunnah wa al-Jamaah dimasyhurkan oleh ....

- A Abu Musa al-Asyaari
- B Abu Hamid al-Ghazali
- C Abu Ahmad al-Asfahani
- D Abu Mansur Al-Maturidi

5. 

Perjanjian untuk memiliki manfaat atau faedah sesuatu barang yang diterima daripada orang lain dengan bayaran yang sesuai
---

Pernyataan di atas merujuk kepada...

- A Insurans
  - B Syarikat
  - C Saham
  - D Sewa
6. Berikut merupakan sebab-sebab gugur hak hadhanah **kecuali**....
- A Ibunya berkahwin lagi
  - B Anak didera oleh ibunya
  - C Anak tersebut telah dewasa
  - D Ibu berpindah ke tempat lain
7. Antara berikut, yang manakah **bukan** rukun berhutang ?
- A Saksi pemberi hutang
  - B Akad pemberian hutang
  - C Barang yang diberi hutang
  - D Penerima dan pemberi hutang
8. Wanita yang haram dikahwini disebabkan persemendaan adalah seperti berikut.
- I Ibu tiri
  - II Kakak ipar
  - III Ibu mertua
  - IV Anak saudara
- A I dan II
  - B II dan III
  - C III dan IV
  - D I dan III
9. Pilih pernyataan yang tepat mengenai syarat-syarat isteri yang sah dirujuk.
- A Belum disetubuhi
  - B Masih dalam tempoh iddah
  - C Berada dalam iddah talak tiga
  - D Bercerai secara fasakh atau khuluk

10. Berikut adalah jawatan yang pernah disandang oleh Ibnu Khaldun.

- I Anggota Majlis al-Maarif
- II Ketua Hakim Negara di Mesir
- III Hakim Mahkamah Rayuan Mesir
- IV Anggota Majlis Ilmiah di Fez, Maghribi

- A I dan II
- B II dan III
- C II dan IV
- D III dan IV

11.

Beliau telah memperkenalkan tanda bunyi al-Fathah, al-Kasrah dan al-Dhammah bagi membantu pembacaan al-Quran yang betul.

Pernyataan di atas merujuk kepada tokoh ilmun....

- A Sibawaih
- B Khalil bin Ahmad
- C Abu Aswad Ad-Duwali
- D Jarir Amru bin Abi Rabithah

12. Dua bandar yang menjadi tumpuan pencinta ilmu pada zaman Abbasiyah ialah...

- A Syam dan Andalus
- B Andalus dan Sicilly
- C Kaherah dan Jordan
- D Andalus dan Khurasan

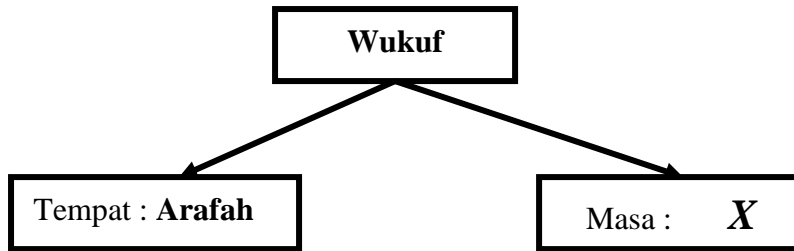
13. Antara faktor kegawatan ekonomi kerajaan Abbasiyah ialah....

- A Perebutan kuasa
- B Campurtangan pihak luar
- C Rusuhan dan pemberontakan
- D Kelemahan pemerintahan kerajaan

14. Syarat sah binatang yang disembelih ialah....

- A Mati dengan sekali sembelihan
- B Menggunakan pisau yang tajam
- C Menghadapkan binatang ke arah kiblat
- D Melakukan sembelihan pada siang hari

15.



Tanda X merujuk kepada

- A Terbit fajar 9 Zulhijah hingga terbit fajar 10 Zulhijah
  - B Gelincir matahari 9 Zulhijah hingga terbit fajar 10 Zulhijah
  - C Terbit fajar 10 Zulhijah hingga terbenam matahari 10 Zulhijah
  - D Gelincir matahari 10 Zulhijah hingga terbenam matahari 10 Zulhijah
16. Berikut adalah latar belakang pendidikan as-Sayyid Jamaluddin al-Afghani **kecuali**
- A Menguasai beberapa bahasa dunia
  - B Menghafaz al-Quran semasa berusia 9 tahun
  - C Menguasai pelbagai bidang ilmu pengetahuan
  - D Bermusafir ke India untuk mendalami ilmu Matematik Moden
17. Antara berikut yang manakah **bukan** cara berfikir menurut Islam ?
- A Berfikir tentang zat Allah
  - B Menetapkan tujuan berfikir
  - C Mengetahui cara mencapai matlamat
  - D Memikirkan risiko yang akan berlaku
18. Berikut merupakan kelebihan memberi dan menerima hadiah **kecuali** ...
- A Rezeki akan bertambah
  - B Mendapat ganjaran Allah
  - C Menyelesaikan masalah orang lain
  - D Disenangi dan disayangi orang lain

19. Sabda Rasulullah SAW :

...إِذَا حَدَّثَ كَذَّبَ...  
(البخاري)  
(رواه)  
Maksudnya : ..... apabila bercakap dia berbohong ....

Hadis di atas merujuk kepada...

- A Nifak
- B Riddah
- C Kufur
- D Syirik

20. Sabda Rasulullah SAW :

إِذَا دُعِيَ أَحَدُكُمْ إِلَى وَلِيْمَةٍ فَلْيَأْتِهَا  
(عليه)  
(متفق)  
Maksudnya: “Apabila salah seorang daripada kamu diundang ke

Hukum asal menghadiri majlis perkahwinan ialah...

- A Sunat Muakkad
- B Fardhu Kifayah
- C Sunat
- D Wajib

**Soalan 21 hingga Soalan 40.**

*Isi tempat kosong dengan jawapan yang sesuai.*

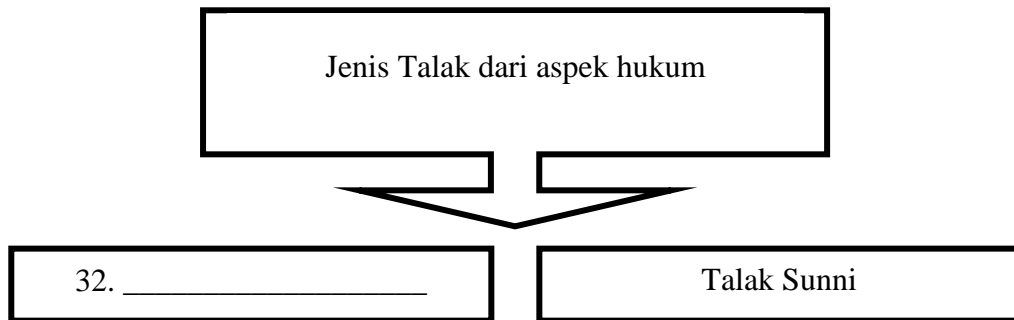
- 21 Melakukan sesuatu untuk mendapatkan kepentingan diri sendiri atau memudaratkan orang lain disebut \_\_\_\_\_ .
- 22 Berdasarkan maksud ayat al-Quran :  
“Telah berlaku pelbagai kerosakan dan bala bencana di darat dan di laut dengan sebab apa yang dilakukan oleh \_\_\_\_\_ manusia”.
- 23 Mandi bunga bagi mempercepatkan jodoh adalah contoh amalan \_\_\_\_\_.

<b>Maksud</b>	<b>Jenis Dam</b>
Dam yang dibayar mengikut susunan	Tertib
Dam yang dibayar mengikut kadar yang ditentukan mengikut kemampuan.	<b>X</b>

- 24 **X** dalam rajah di atas ialah \_\_\_\_\_ .
- 25 Mahar yang ditentukan kadarnya dan dipersetujui oleh kedua-dua belah pihak ialah \_\_\_\_\_ .
- 26 Tempoh iddah bagi isteri yang kematian suami ialah \_\_\_\_\_.
- 27 Pengasas kerajaan Bani Abbasiyah ialah \_\_\_\_\_.
- 28 Syiah Imamiyah beramal dengan \_\_\_\_\_ iaitu menyembunyikan iktikad sebenar mereka apabila berhadapan dengan orang yang berbeza iktikadnya .
- 29 Amalan menyuapkan manisan atau buah tamar ke mulut bayi semasa majlis mencukur rambut dinamakan \_\_\_\_\_ .
- 30 Sumpah suami untuk mengelakkan hukuman qazaf disebut \_\_\_\_\_ .

31 Jemaah haji Malaysia yang dalam perjalanan ke Mekah melalui Madinah akan berniat ihram di \_\_\_\_\_

Soalan 32 adalah berdasarkan rajah di bawah.

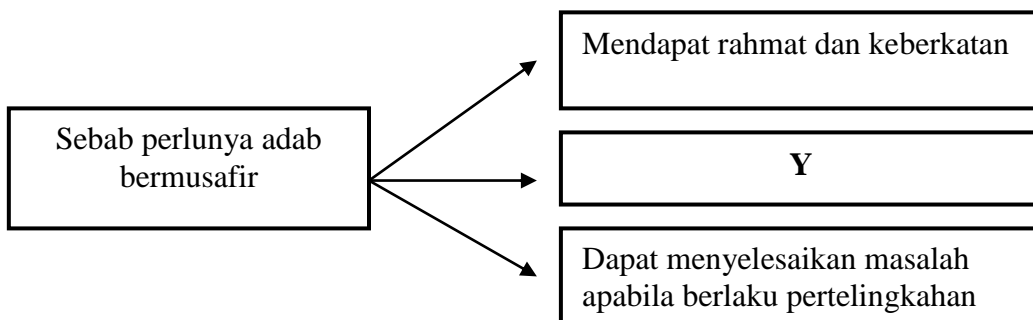


33 Suami berkata kepada isterinya : “Jika engkau keluar dari rumah ini maka engkau tertalak dengan talak satu”.  
Lafaz ini merujuk kepada \_\_\_\_\_

Soalan 34 dan Soalan 35 berdasarkan rajah di bawah.

Nyatakan bidang kepakaran bagi tokoh-tokoh di bawah:

No	Tokoh	Bidang Ilmu
34	Al-Battani	
35	Al-Hassan Bin al-Haitham	



36 Y dalam rajah di atas ialah \_\_\_\_\_

- 37 Khalifah Abu Bakar al-Siddiq telah menghantar pasukan tentera Usamah Bin Zaid ke \_\_\_\_\_ ketika beliau berusia 18 tahun.
- 38 Imam Malik dilahirkan di \_\_\_\_\_ .

**Soalan 39 dan Soalan 40** berdasarkan jadual di bawah. Lengkapkan tempat kosong dengan jawapan yang betul.

Situasi	Hukum
Menghantar jenazah ke kubur	Sunat muakkad
Meraung dan meratapi mayat	39 _____
Mengucap takziah	40 _____

**Bahagian B**  
[60 markah]

Jawab **tiga** soalan : **Soalan 1, Soalan 2** dan mana-mana **satu** soalan berikutnya.

- 1 (a) Ajaran sesat boleh membatalkan iman.
- (i) Nyatakan maksud ajaran sesat. [2 markah]
  - (ii) Jelaskan **dua** ciri ajaran Qadyani. [2 markah]
  - (iii) Cadangkan **dua** cara untuk memelihara akidah. [4 markah]
- (b) Firman Allah SWT :

يَا أَيُّهَا الَّذِينَ آمَنُوا إِنَّمَا الْخَمْرُ وَالْمَيْسِرُ وَالْأَنْصَابُ وَالْأَزْلَامُ  
رَجْسٌ مِّنْ عَمَلِ الشَّيْطَانِ فَاجْتَنِبُوهُ لَعَلَّكُمْ تُفْلِحُونَ  
( سورة المائدة آية : 90 )

Ayat di atas menerangkan pengharaman arak, judi, pemujaan berhala dan bertenggang nasib.

- (i) Nyatakan hukuman yang telah ditentukan oleh syarak ke atas peminum arak. [2 markah]
  - (ii) Terangkan **dua** hikmah dikenakan hukuman tersebut. [4 markah]
- (c) Islam melarang perbuatan membunuh diri kerana perbuatan tersebut merupakan satu pencabulan hak Allah SWT.
- (i) Nyatakan **dua** faktor yang mendorong remaja membunuh diri. [2 markah]
  - (ii) Jelaskan **dua** usaha yang perlu dilakukan untuk mengelakkan perbuatan membunuh diri. [4 markah]

2 (a) Firman Allah SWT :

وَلِلَّهِ عَلَى النَّاسِ حِجُّ الْبَيْتِ مَنِ اسْتَطَاعَ إِلَيْهِ سَبِيلًا  
( سورة ال عمران آية: 97 )

Ayat di atas menerangkan tentang kewajipan mengerjakan haji kepada sesiapa yang berkemampuan.

- (i) Jelaskan maksud haji . [2 markah]
- (ii) Terangkan **dua** syarat berkemampuan (istito'ah) yang dikhususkan kepada wanita. [4 markah]
- (iii) Jelaskan **dua** perkara yang dilarang semasa ihram. [4 markah]
- (b) Pertunangan adalah satu tuntutan dalam Islam.
- (i) Nyatakan **dua** anggota badan yang sunat dilihat oleh calon suami. [2 markah]
- (ii) Jelaskan **dua** hikmah disunatkan melihat bakal isteri. [4 markah]
- (c) Nyatakan hukum dan alasan bagi situasi yang berikut :
- (i) Ahmad terlupa menyebut kadar mahar semasa akad nikah. [2 markah]
- (ii) Fatimah berihram dengan memakai jubah berwarna hitam. [2 markah]
- 3 (a) Khulafa' al-Rasyidin merupakan golongan terbaik dan generasi pertama yang menghayati ajaran Islam sepenuhnya.
- (i) Nyatakan **dua** pembaharuan yang dilaksanakan dalam sistem pentadbiran Khulafa' ar-Rasyidin. [2 markah]
- (ii) Terangkan **dua** akibat membelakangkan kepimpinan Khulafa' al- Rasyidin. [4 markah]
- (b) Imam Ahmad bin Hanbal adalah tokoh hadis yang terkenal.
- (i) Nyatakan **dua** cara beliau menetapkan hukum. [2 markah]
- (ii) Jelaskan **dua** cara anda mencontohi ketinggian akhlak Imam Ahmad bin Hanbal dalam kehidupan seharian. [4 markah]

- (c) Kemudahan awam yang disediakan adalah bertujuan memberikan keselesaan hidup.
  - (i) Nyatakan **dua** faedah kemudahan awam kepada masyarakat. [4 markah]
  - (ii) Cadangkan **dua** cara untuk meningkatkan kesedaran menjaga kemudahan awam. [4 markah]
  
- 4** (a) Perkembangan pendidikan pada zaman pemerintahan kerajaan Abbasiyah lebih pesat berbanding kerajaan Umayyah.
  - (i) Nyatakan **dua** institusi pendidikan pada zaman kerajaan Abassiah. [2 markah]
  - (ii) Jelaskan **dua** usaha yang telah dilakukan oleh kerajaan Abbasiyah untuk memajukan bidang sains dan teknologi. [4 markah]
  
- (b) Ibnu Khaldun merupakan tokoh yang terkenal dalam bidang tamadun.
  - (i) Nyatakan **dua** sifat peribadi Ibnu Khaldun. [2 markah]
  - (ii) Jelaskan **dua** perkara yang digariskan oleh Ibnu Khaldun dalam menganalisis laporan sejarah. [4 markah]
  
- (c) Firman Allah SWT :

يَتَأْتِيهَا الَّذِينَ ءَامَنُوا أَطِيعُوا اللَّهَ وَأَطِيعُوا الرَّسُولَ وَأُولَى الْأَمْرِ مِنْكُمْ ط  
(سوره النساء اية: 59)

Ayat di atas menjelaskan kewajipan mentaati Allah, Rasul dan pemimpin.

- (i) Nyatakan **dua** ciri pemimpin menurut Islam. [2 markah]
- (ii) Nyatakan hukum mentaati pemimpin. [2 markah]
- (iii) Jelaskan **dua** tanggungjawab rakyat terhadap pemimpin. [4 markah]

**KERTAS SOALAN TAMAT**

**KERTAS JAWAPAN UNTUK BAHAGIAN A**

NAMA : \_\_\_\_\_ KELAS : \_\_\_\_\_

NO. KAD PENGENALAN

--	--	--	--	--	--	--	--	--	--	--	--	--	--	--	--

ANGKA GILIRAN

--	--	--	--	--	--	--	--	--	--	--	--	--	--	--	--

- 1    A    B    C    D                    21 \_\_\_\_\_
- 2    A    B    C    D                    22 \_\_\_\_\_
- 3    A    B    C    D                    23 \_\_\_\_\_
- 4    A    B    C    D                    24 \_\_\_\_\_
- 5    A    B    C    D                    25 \_\_\_\_\_
- 6    A    B    C    D                    26 \_\_\_\_\_
- 7    A    B    C    D                    27 \_\_\_\_\_
- 8    A    B    C    D                    28 \_\_\_\_\_
- 9    A    B    C    D                    29 \_\_\_\_\_
- 10   A    B    C    D                    30 \_\_\_\_\_
- 11   A    B    C    D                    31 \_\_\_\_\_
- 12   A    B    C    D                    32 \_\_\_\_\_
- 13   A    B    C    D                    33 \_\_\_\_\_
- 14   A    B    C    D                    34 \_\_\_\_\_
- 15   A    B    C    D                    35 \_\_\_\_\_
- 16   A    B    C    D                    36 \_\_\_\_\_
- 17   A    B    C    D                    37 \_\_\_\_\_
- 18   A    B    C    D                    38 \_\_\_\_\_
- 19   A    B    C    D                    39 \_\_\_\_\_
- 20   A    B    C    D                    40 \_\_\_\_\_

