

- 1 Mengapakah kerajaan Assyria dalam tamadun Mesopotamia memberikan penekanan dalam ilmu perubatan?
- A Menjaga kesihatan anggota tentera
 - B Mengatasi masalah wabak penyakit
 - C Meningkatkan taraf kesihatan rakyat
 - D Melahirkan ramai pengamal perubatan

Tamadun Indus muncul sekitar tahun 2500 S.M dan merosot pada tahun 1800 S.M

- 2 Berdasarkan pernyataan di atas, apakah faktor kemerosotan tamadun Indus?
- I Perang saudara
 - II Berlaku bencana alam
 - III Serangan orang Aryan
 - IV Jangkitan wabak penyakit
- A I dan II
 - B II dan III
 - C III dan IV
 - D I dan IV

Golongan bomoh dalam tamadun Hwang Ho menggunakan tulang oracle untuk meramalkan sesuatu keadaan.

- 3 Merujuk pernyataan di atas, apakah kesan daripada amalan tersebut?
- A Kemunculan sistem tulisan
 - B Perkembangan ilmu perubatan
 - C Pengukuhan amalan keagamaan
 - D Kewujudan kepercayaan animisme

Mesopotamia	Rom
Undang-undang Hammurabi	Hukum Kanun 12

- 4 Bagaimanakah kod undang-undang di atas difahami rakyat?
- A Melalui sistem pendidikan
 - B Melalui amalan hidup seharian
 - C Menghafal kod undang-undang
 - D Mempamerkan di tempat awam

Undang-undang yang tegas dan kukuh dapat mengawal tingkah laku manusia

5. Pernyataan di atas berkaitan dengan falsafah China mengenai sistem perundangan. Undang-undang ini dipengaruhi oleh falsafah

- A Taoisme
- B Stoisisme
- C Legalisme
- D Confucianisme

6. Matlamat penganut agama Hindu ialah untuk mencapai Moksha. Bagaimanakah tahap tersebut boleh dicapai?

- A Melepasi amalan Dharma
- B Menghafal kitab suci Veda
- C Mengamalkan perbuatan baik
- D Menjalani kehidupan seorang sami

Funan dan Angkor merupakan kerajaan agraria yang maju dalam bidang pertanian.

7. Berdasarkan pernyataan di atas, apakah faktor kejayaan tersebut?

- A Tanah yang rata
- B Tenaga buruh yang ramai
- C Ilmu pengetahuan yang tinggi
- D Pemerintah yang bertanggungjawab

- Candi Angkor Wat
 - Candi Borobudur

8. Senarai di atas merupakan monumen bagi agama Hindu dan Buddha. Apakah tujuan pembinaan candi tersebut?

- I Pusat ibadat
- II Pusat pentadbiran
- III Tempat menyimpan patung dewa
- IV Tempat menyimpan abu jenazah raja

- A I, II dan III
- B I, II dan IV
- C I, III dan IV
- D II, III dan IV

- 9 Apakah bentuk pemuluan yang dilakukan oleh orang Arab Quraisy terhadap keluarga Nabi Muhammad s.a.w?
- I Sekatan politik
 - II Sekatan sempadan
 - III Larangan berkahwin
 - IV Larangan berurus niaga
- A I dan II
B II dan III
C III dan IV
D I dan IV
- 10 Antara berikut yang manakah isi Perjanjian Aqabah Pertama?
- I Meninggalkan amalan riba
 - II Membantu perjuangan Nabi
 - III Meninggalkan amalan Jahiliah
 - IV Mewujudkan ikatan persaudaraan
- A I dan II
B II dan III
C III dan IV
D I dan IV
- 11 Bagaimanakah Piagam Madinah menjamin keadilan kepada semua kaum dalam pelaksanaan sistem ekonomi?
- I Mengenakan cukai jizyah
 - II Larangan mengambil riba
 - III Membuka peluang perniagaan
 - IV Sistem timbangan yang seragam
- A I dan II
B II dan III
C III dan IV
D I dan IV

12 Antara berikut yang manakah faktor kejatuhan kerajaan Bani Umayyah?

- I Pengabaian terhadap rakyat
- II Penaklukan oleh Bani Saljuk
- III Penentangan golongan Mawali
- IV Pemerintahan berasaskan sistem warisan

- A I, II dan III
- B I, II dan IV
- C I, III dan IV
- D II, III dan IV

Sebelum kemunculan Islam di Makkah, Asia Tenggara telah menjadi tumpuan pedagang-pedagang Melayu , Arab , Cina dan India.

13 Berdasarkan pernyataan di atas, mengapakah Asia Tenggara menjadi tumpuan?

- A Kestabilan politik
- B Kekayaan hasil bumi
- C Kepadatan penduduk
- D Kewibawaan Pemerintah

14 Mengikut catatan Cina pada tahun 977 M, agama Islam telah bertapak di Brunei melalui

- A pendakwah
- B penaklukan
- C perkahwinan
- D perdagangan

15 Antara berikut yang manakah ciri sistem pendidikan pondok di Asia Tenggara?

- I Pembelajaran mengikut sistem kelas formal
- II Pelajar ialah orang tempatan dan orang luar
- III Keperluan asas disediakan sendiri oleh pelajar
- IV Tempoh pembelajaran dihadkan 10 tahun sahaja

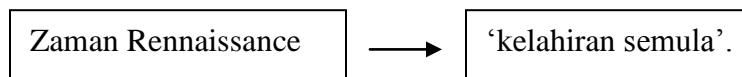
- A I dan II
- B II dan III
- C III dan IV
- D I dan IV

Sebelum Islam	Selepas Islam
Nasab keturunan raja daripada penitisan dewa	Nasab keturunan raja atau sultan daripada Iskandar Zulkarnain

- 16 Berdasarkan jadual, apakah kepentingan penggunaan nasab di atas?
- A Melambangkan kekuasaan
 - B Memperlihatkan kewibawaan
 - C Melambangkan kepahlawanan
 - D Meninggikan kedudukan pemerintah
- 17 Apakah institusi kewangan di Malaysia yang mempunyai persamaan fungsi dengan Baitulmal pada zaman Kesultanan Melayu Melaka?
- A Bank Islam
 - B Bank Rakyat
 - C Bank Negara
 - D Bank Muamalat

Undang- undang kerajaan Melayu tradisional mengecualikan diri raja atau sultan daripada sebarang tindakan.

- 18 Pernyataan di atas menunjukkan raja atau sultan
- A mempunyai daulat
 - B merupakan wakil tuhan
 - C mempunyai kuasa tertinggi
 - D menggubal undang- undang

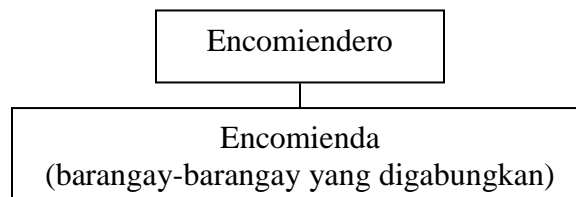


- 19 Berdasarkan rajah di atas, istilah tersebut merujuk kepada
- A berakhirnya Zaman Gelap
 - B penghargaan terhadap ilmu
 - C kemunculan golongan patron
 - D pembaharuan agama Kristian

- 20 Apakah kesan sosial penjelajahan Barat terhadap masyarakat setempat di Asia Tenggara?
- A Kemajuan infrastruktur
 - B Penyebaran agama Kristian
 - C Penghapusan budaya tempatan
 - D Kewujudan masyarakat majmuk

Tahun	Jumlah
1700	5.5 juta
1750	6.5 juta
1801	9.0 juta
1831	14.0 juta

- 21 Jadual di atas menunjukkan anggaran penduduk di England dan Wales pada abad ke-18 dan ke-19. Apakah kesan pertambahan penduduk kepada sektor pertanian di Britain?
- A Penglibatan kerajaan
 - B Permintaan buruh luar
 - C Pengeluaran berskala besar
 - D Peningkatan import makanan



- 22 Rajah di atas adalah perubahan pentadbiran Sepanyol di Filipina. Mengapakah rakyat Filipina menentang sistem tersebut?
- A Cukai yang tinggi
 - B Pentadbiran berpusat
 - C Penyebaran agama Kristian
 - D Dasar diskriminasi penjajah

- Jose Rizal
- Raden Adjeng Kartini
- Phan Boi Chau

23 Apakah persamaan matlamat perjuangan tokoh-tokoh nasionalis di atas?

- I Mengusir penjajah Barat
- II Membaiki taraf hidup rakyat
- III Mengembalikan hak peribumi
- IV Menuntut pemerintahan sendiri

- A I dan II
- B II dan III
- C III dan IV
- D I dan IV

24 Apakah isu yang dibangkitkan oleh Kaum Muda bagi memajukan bangsa Melayu?

- I Kemajuan dalam bidang ekonomi
- II Pemerintahan negara oleh golongan ulama
- III Peluang pendidikan kepada pelajar perempuan
- IV Peranan pemimpin membangunkan masyarakat

- A I, II dan III
- B I, II dan IV
- C I, III dan IV
- D II, III dan IV

Matlamat perjuangan Kesatuan Melayu Muda ialah untuk menubuhkan negara Melayu Raya atau Indonesia Raya

25 Mengapakah matlamat di atas gagal dicapai?

- A Kekalahan British
- B Kedatangan Jepun
- C Kebangkitan Komunis
- D Kemerdekaan Indonesia

Deklarasi Empat Belas Perkara Woodrow Wilson
--

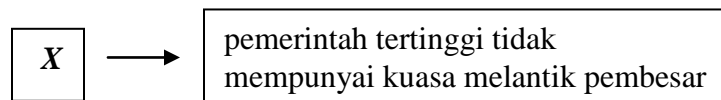
26 Apakah kesan peristiwa di atas kepada perkembangan politik di Eropah?

- A Meletus perang saudara
- B Mengukuhkan sistem feodal
- C Kemunculan negara bangsa baru
- D Kerosotan sistem pemerintahan Republik

TAHUN	PEMERINTAH
1801-1836	Sultan Muhammad I
1836-1886	Sultan Muhammad II

27 Apakah sumbangan pemerintah di atas kepada sistem pentadbiran di Kelantan?

- A Melaksanakan Sistem Jemaah Menteri
- B Melantik pembesar bergelar Nik dan Wan
- C Membentuk Undang-undang Tubuh Kerajaan
- D Memperkenalkan sistem raja berperlembagaan



28 Berdasarkan rajah di atas, X ialah

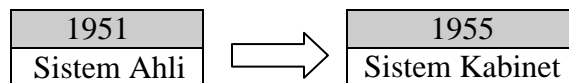
- A Negeri Perak
- B Negeri Kedah
- C Negeri Pahang
- D Negeri Sembilan

29 Siapakah yang mengetuai pentadbiran negeri di bawah sistem pemerintahan Malayan Union?

- A Sultan
- B Residen
- C Menteri Besar
- D Pesuruhjaya Negeri

Perlembagaan 1941
Vyner Brooke berjanji akan memberi kerajaan sendiri kepada Sarawak

- 30 Apakah implikasi perlembagaan di atas kepada perkembangan politik di Sarawak?
- A Penubuhan parti-parti politik di Sarawak
 - B Pergerakan menuntut berkerajaan sendiri
 - C Penentangan penyerahan Sarawak kepada British
 - D Pentadbiran Sarawak diserahkan kepada Majlis Negeri



- 31 Apakah faktor berlakunya perubahan di atas ?
- A Pilihanraya
 - B Peristiwa Darurat
 - C Permintaan Parti Perikatan
 - D Persetujuan Majlis Raja-raja

Pada bulan Februari 1953, Sir Malcom Mac Donald telah menganjurkan Persidangan Kebangsaan di King's House Kuala Lumpur
--

- 32 Apakah matlamat persidangan di atas diadakan?
- A Menentang komunis
 - B Merangka perlembagaan
 - C Mengadakan pilihan raya
 - D Membentuk kerjasama politik
- 33 Mengapakah British menyokong pembentukan Malaysia?
- A Mengiktiraf negara merdeka
 - B Mewujudkan kestabilan politik
 - C Menyaingi pengaruh Indonesia
 - D Mengukuhkan dasar imperialisme

- 34 Antara berikut siapakah yang layak mengundi secara pos dalam pilihanraya di Malaysia?
- I Anggota pasukan keselamatan
 - II Pelajar yang pelajar di luar negara
 - III Jemaah haji yang sedang menunaikan haji
 - IV Pegawai kerajaan yang berkhidmat di luar negara
- A I, II dan III
B I, II dan IV
C I, III dan IV
D II, III dan IV
- 35 Antara berikut yang manakah ciri-ciri Dewan Negara?
- I Ahlinya digelar Senator
 - II Mempunyai 69 orang ahli
 - III Berumur 21 tahun ke atas
 - IV Dipilih melalui pilihanraya
- A I dan II
B II dan III
C III dan IV
D I dan IV
- 36 Apakah peranan FAMA yang ditubuhkan pada tahun 1965 di bawah Rancangan Malaya Kedua?
- A Meningkatkan pembukaan tanah baru untuk pertanian
 - B Menyediakan kemudahan pinjaman kepada pekebun kecil
 - C Menggalakkan orang Melayu menyertai sektor perniagaan
 - D Membantu petani mengatasi masalah pemasaran pertanian

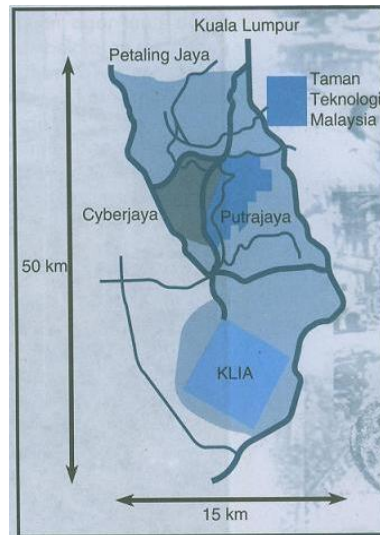
Dasar Pertanian Negara dirangka untuk meningkatkan sektor pertanian ke tahap maksimum.

- 37 Apakah strategi yang dirancang bagi mencapai tujuan di atas?
- I Dasar Penswastaan
 - II Rancangan FELDA
 - III Majlis Gerakan Negara
 - IV Program pembangunan In-Situ
- A I, II dan III
B I, II dan IV
C I, III dan IV
D II, III dan IV

- 38 Apakah tujuan penubuhan Persatuan Negara-negara Asia Tenggara (ASEAN)?
- A Menentang ancaman komunis
 - B Mewujudkan pasaran ekonomi
 - C Mengekalkan kestabilan politik
 - D Mewujudkan kerjasama ketenteraan

Salah satu cara Indonesia menentang penubuhan Malaysia ialah dengan memburukkan nama Malaysia di Negara Afro-Asia dan Negara Dunia Ketiga

- 39 Apakah cara Malaysia menangani tindakan tersebut?
- A Menubuhkan MAPHILINDO
 - B Menghantar delegasi bantahan
 - C Menjalin hubungan diplomatik
 - D Menjelaskan kedudukan sebenar



- 40 Peta di atas merujuk kepada kawasan Koridor Raya Multimedia. Apakah strategi pelaksanaan projek di atas?
- I E-pendidikan
 - II Penyiaran digital
 - III Zon perdagangan bebas
 - IV Pemasaran tanpa sempadan
- A I, II dan III
 - B I, II dan IV
 - C I, III dan IV
 - D II, III dan IV